


令和 2 年度

V 社 会

(14時20分～15時10分)

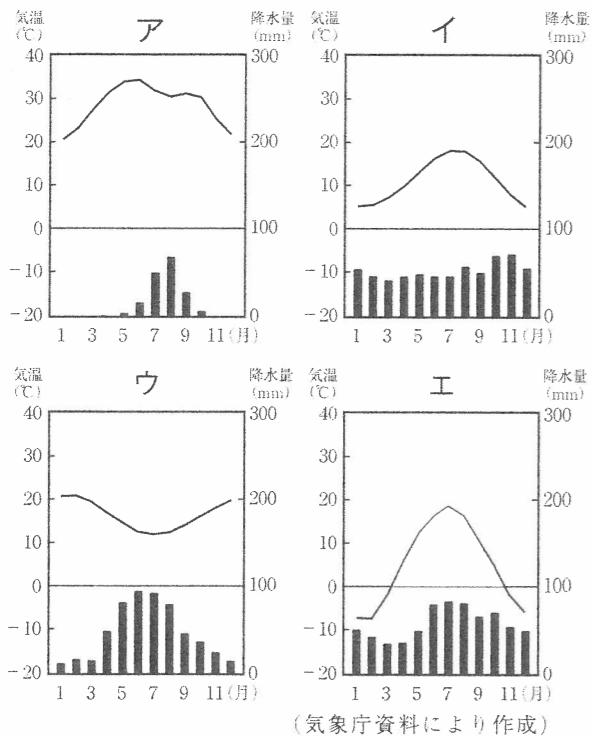
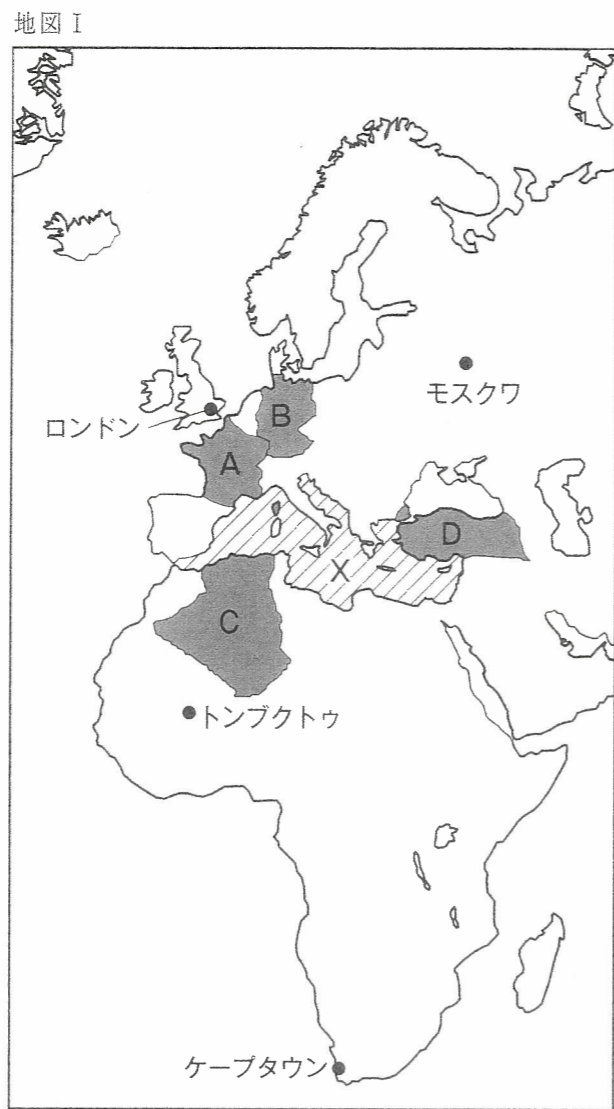
注 意

- 問題用紙は4枚(4ページ)あります。
- 解答用紙はこの用紙の裏面です。
- 答えはすべて、解答用紙の所定の欄に、文、文字などで答えるもののほかは、ア、イ、……などの符号で記入しなさい。
- 解答用紙の  の欄には記入してはいけません。

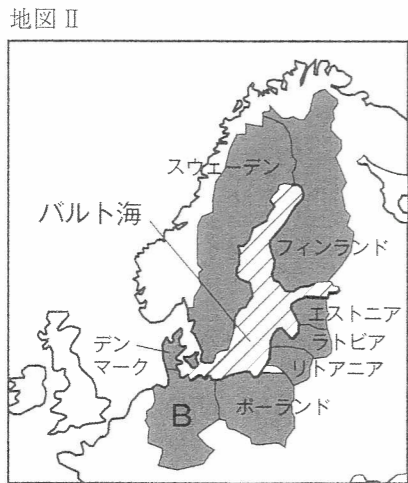
V 

1 右の地図ⅠのXは海洋を、A～Dは国を示している。(1)～(6)の問いに答えなさい。

- (1) 地図ⅠのXの海洋名を漢字3字で書きなさい。
 (2) 次の雨温図は、地図Ⅰのロンドン、モスクワ、トンブクトゥ、ケープタウンのいずれかの都市の気温と降水量を表している。ロンドンにあてはまるものを、ア～エの中から一つ選びなさい。



- (3) 1993年に発足したEUに関して、次の①、②の問いに答えなさい。
 ① 地図ⅠのA国、B国では、EUの共通通貨が導入されている。この通貨を何というか。書きなさい。
 ② 次の地図Ⅱは、地図Ⅰの一部であり、バルト海沿岸のEU加盟国を■で表したものである。また表Ⅰは、これらの国の一人あたりの国民総所得の変化を表しており、2000年以前からの加盟国をPグループ、2001年以降に加盟した国をQグループとしている。Qグループの2017年の一人あたりの国民総所得と、Qグループの2005年からのその増加率について、「Pグループに比べ、Qグループは、」の書き出しに続けて書きなさい。



表Ⅰ バルト海沿岸のEU加盟国の一人あたりの国民総所得の変化

グループ	国名	一人あたりの国民総所得	
		2005年(ドル)	2017年(ドル)
P	デンマーク	48650	57963
	B国	34980	45923
	スウェーデン	42060	54810
	フィンランド	38550	46210
Q	エストニア	9700	19390
	ラトビア	6760	15517
	リトアニア	7250	15791
	ポーランド	7270	13226

(世界国勢図会2019/20年版などにより作成)

- (4) アフリカ州の国や地域が、紛争や貧困問題の解決策を協力して考えるために、2002年に発足させた地域機構を何というか。書きなさい。
 (5) 地図ⅠのC国、D国において、最も多くの人々が信仰している宗教として適当なものを、次のア～エの中から一つ選びなさい。
 ア イスラム教 イ キリスト教 ウ ヒンドゥー教 エ 仏教
 (6) 次の表Ⅱは、地図ⅠのA～D国の輸出総額、輸出上位3品目と輸出総額に占める割合および輸出相手国上位5か国を表している。D国にあてはまるものを、表Ⅱのア～エの中から一つ選びなさい。また、その国名を書きなさい。

表Ⅱ A～D国の輸出総額、輸出上位3品目と輸出総額に占める割合および輸出相手国上位5か国(2017年)

	輸出総額(百万ドル)	輸出上位3品目と輸出総額に占める割合(%)	輸出相手国上位5か国				
			第1位	第2位	第3位	第4位	第5位
ア	35191	原油(36.1), 天然ガス(20.3), 石油製品(19.9)	イタリア	A国	スペイン	アメリカ	ブラジル
イ	157055	自動車(14.9), 機械類(13.9), 衣類(9.6)	B国	イギリス	アラブ首長国連邦	イラク	アメリカ
ウ	523385	機械類(19.8), 航空機(9.8), 自動車(9.5)	B国	スペイン	イタリア	アメリカ	ベルギー
エ	1450215	機械類(27.3), 自動車(17.4), 医薬品(5.9)	アメリカ	A国	中国	イギリス	オランダ

(世界国勢図会2019/20年版などにより作成)

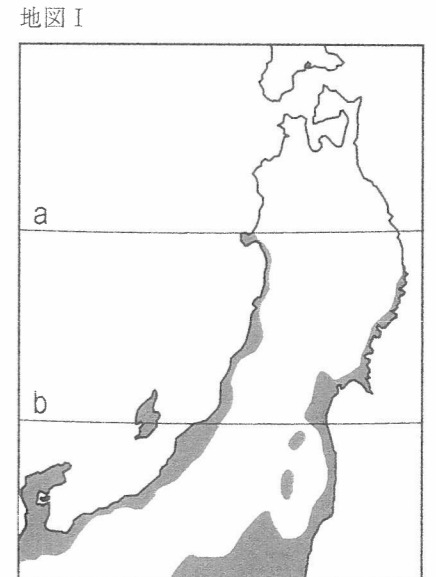
2 東北地方に関して、(1)～(4)の問いに答えなさい。

- (1) 右の地図Ⅰは、東北地方とその周辺における、緯線と気候の特徴を表したものである。次の①、②の問いに答えなさい。

- ① a, bは緯線を示している。a, bの緯度の組み合わせとして適当なものを、次のア～エの中から一つ選びなさい。

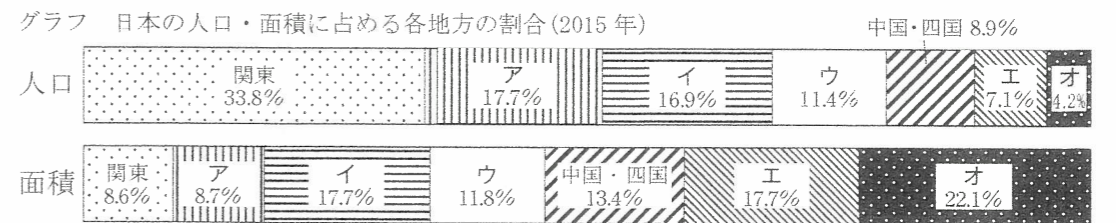
	a	b
ア	北緯38度	北緯40度
イ	北緯40度	北緯38度
ウ	北緯40度	北緯42度
エ	北緯42度	北緯40度

- ② ■で示した地域の気候の特徴として適当なものを、次のア～エの中から一つ選びなさい。
 ア 1月の平均気温が0℃以上である。
 イ 8月の平均気温が24℃未満である。
 ウ 1月の降水量が100mm以上である。
 エ 8月の降水量が100mm未満である。



(気象庁資料などにより作成)

- (2) 次のグラフは、日本の人口・面積に占める各地方の割合を表しており、グラフのア～オは北海道、東北、中部、近畿、九州のいずれかである。東北にあてはまるものを、ア～オの中から一つ選びなさい。



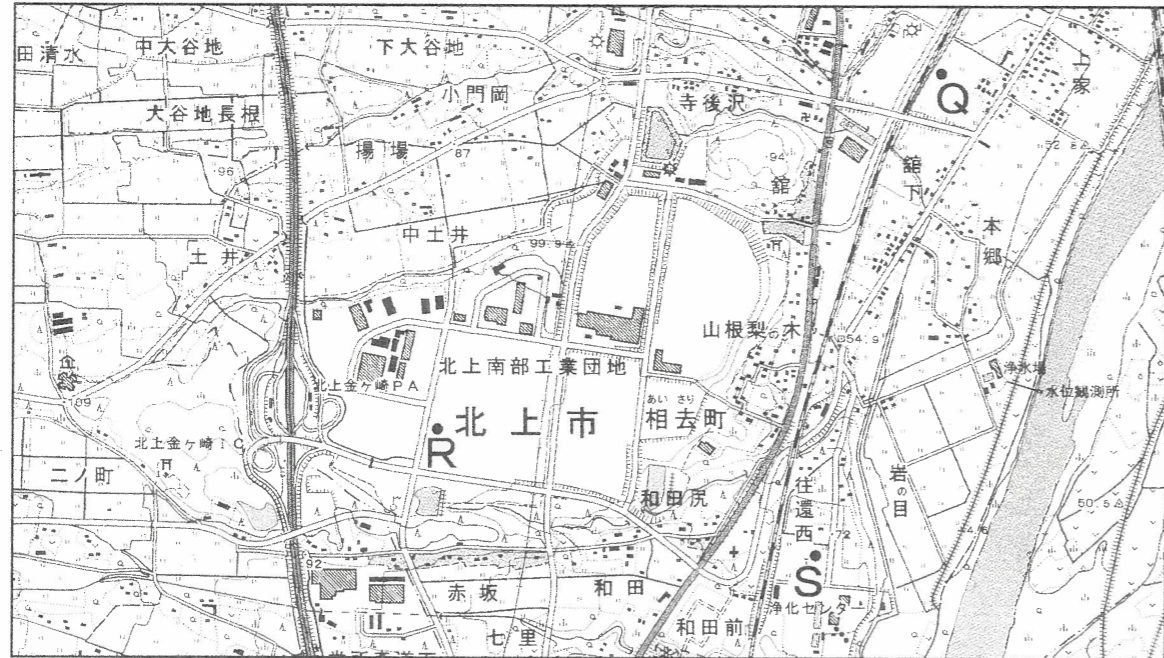
(総務省国勢調査資料により作成)

(3) 下の地図Ⅱは、東北地方の2万5千分の1地形図の一部である。次の①、②の問いに答えなさい。

- ① 地図Ⅱの三つの地点Q, R, Sを、標高の低い順に左から並べて書きなさい。
 ② 次の文は、地図Ⅱの北上南部工業団地の立地について述べたものである。Xにあてはまることばを、「原料や製品」という語句を用いて書きなさい。

北上南部工業団地は、北上金ヶ崎ICという高速道路のインターチェンジ付近にあり、東側には国道も通っている。このことから、北上南部工業団地が立地する利点として、ことがあげられる。

地図Ⅱ



(国土地理院2万5千分の1地形図により作成)

(4) 次の表は、東北地方における県別の農産物栽培面積に占める農産物Yの割合を表している。下の①、②の問いに答えなさい。

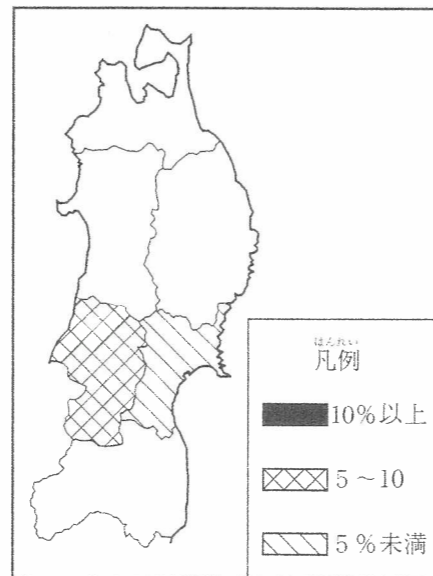
表 東北地方における県別の農産物栽培面積に占める農産物Yの割合(2016年)

青森県	岩手県	宮城県	秋田県	山形県	福島県
18.1%	2.9%	1.4%	2.1%	9.6%	6.2%

(日本の統計2019年版により作成)

- ① 右の地図Ⅲは、上の表を参考にして主題図を作成している途中のものである。凡例にしたがって、残りの4県を塗り分け、解答欄の主題図を完成させなさい。
 ② 農産物Yにあてはまるものを、次のア～エの中から一つ選びなさい。
 ア 稲 イ 麦類 ウ 野菜 エ 果樹

地図Ⅲ



3 次の年表は、日本の文化に関連するできごとについてまとめたものの一部である。(1)～(7)の問いに答えなさい。

年	おもなできごと	
607	聖徳太子が隋に使いを送る……………	A
1053	藤原頼通が <input type="text" value="X"/> を建てる……………	B
1401	足利義満が明に使いを送る……………	C
1637	天草四郎を中心に島原・天草一揆が起こる…	D
1859	幕府が神奈川(横浜)を開港する……………	E

資料

可良己呂武 須宗尔等里都伎
 奈苦古良乎 意伎豆曾伎怒也
 意母奈之尔志豆
 (から衣 すそに取りつき 泣く子らを
 置きてぞ来ぬや 母なしにして)





- (1) 年表のAに関して、聖徳太子が、仏教や儒教の考え方を取り入れ、大王(天皇)の命令に従うことなどを定めた、役人の心構えを何というか。書きなさい。
 (2) 上の資料は、年表のAからBの間によまれた和歌を表している。資料に関して、次の①、②の問いに答えなさい。
 ① この和歌では、漢字を使って一字一音で日本語を書き表している。このような表記方法が多く使用され、奈良時代に大伴家持によってまとめられたといわれる、現存する日本最古の和歌集は何か。書きなさい。
 ② この和歌は、唐や新羅からの攻撃に備えて九州北部に送られた兵士がよんだものである。このような九州地方の防備の目的で派遣された兵士のことを何というか。書きなさい。
 (3) 年表のBについて、このころ浄土信仰がさかんになり、藤原頼通は、阿弥陀仏の住む極楽浄土をこの世に再現しようとしてXを建てた。Xにあてはまる建物の名称として適当なものを、次のア～エの中から一つ選びなさい。
 ア 平等院鳳凰堂 イ 慈照寺銀閣 ウ 姫路城天守 エ 法隆寺金堂
 (4) 年表のCに関して、次の文は、明との貿易について説明したものである。Yにあてはまる語句を書きなさい。

1404年、足利義満は、日本側の正式な貿易船に、明から与えられた という通交証明書を持たせて、朝貢のかたちでの貿易を始めた。そのため、この貿易は、 貿易といわれる。

- (5) 年表のDに関して、幕府がこの一揆を鎮圧したあとの1639年に出した法令の内容として適当なものを、次のア～エの中から一つ選びなさい。
 ア 安土の町は楽市としたので、いろいろな座は廃止し、さまざまな税や労役は免除する。
 イ 本拠である朝倉館のほか、国内に城を構えてはならない。領地のある者は全て一乗谷に移住し、村には代官を置くようにせよ。
 ウ 宣教師は今後、日本にすることはできないが、ポルトガルの貿易船は、商売のために来ているので、特別に許可せよ。
 エ 今後ポルトガル船が日本に渡ってくることを禁止する。今後渡ってきた時はその船を壊し、乗員は即座に死罪にせよ。
 (6) 年表のDからEの間に幕府が行ったことについて述べた次のア～エを、年代の古い順に左から並べて書きなさい。
 ア 浦賀に来航したアメリカの東インド艦隊司令長官ペリーから、開国を求める大統領の国書を受け取った。
 イ 外国船を打ちはらうとする幕府の方針を批判した、蘭学者の渡辺崋山らを処罰した。
 ウ 享保の改革を進める中で、天文学や医学など日常生活に役立つ学問を奨励し、それまで禁止していた漢文に翻訳されたヨーロッパの書物の輸入を認めた。
 エ アヘン戦争で清がイギリスに敗れたことを知ると、外国船に燃料や水を与えて退去させる法令を出した。

(7) 年表のEに関して、次の①、②の問いに答えなさい。

- ① Eの前年に結ばれた条約によって、神奈川（横浜）など5港の開港と開港地に設けた居留地においてアメリカ人が自由な貿易を行うことが認められた。幕府がアメリカとの間で結んだこの条約は何か。書きなさい。
- ② 明治時代には、居留地や都市を中心にそれまでの伝統的な生活が欧米風に変化し始めた。これを文明開化と呼ぶ。この文明開化の様子が描かれたものとして適当なものを、次のア～エの中から一つ選びなさい。



4 次のI～IVのカードは、近代から現代までの日本の歴史を、ある班がまとめたものの一環である。なお、カードは年代の古い順に左から並べてある。(1)～(4)の問いに答えなさい。

<p>カードI</p>  <p>これは、日清戦争の賠償金をもとに建設されたa官営工場の写真である。明治時代となり、欧米諸国にならってb近代的な国のしくみが整えられ、日本の産業はめざましく発展していった。</p>	<p>カードII</p>  <p>これは、少年が差別とのたたかいを訴えている演説会の写真である。当時は大正デモクラシーの風潮があり、さまざまなc差別からの解放を求める運動や、d普通選挙の実現を求める運動が広がっていった。</p>	<p>カードIII</p>  <p>これは、e世界恐慌の影響による不況で仕事を失い、食事の提供を受ける人々の写真である。当時の日本では、経済の混乱や外交の困難に直面し、f政党政治が行き詰まっていた。</p>	<p>カードIV</p>  <p>これは、東京オリンピックの開会式の写真である。このころの日本経済はg高度経済成長期にあたり、1968年には国民総生産が、資本主義国の中でアメリカに次ぐ第2位となった。</p>
--	---	--	---

(1) カードIに関して、次の①、②の問いに答えなさい。

- ① 下線部aについて、1901年に鉄鋼の生産を開始したこの官営工場の名称を書きなさい。

- ② 下線部bに関して、近代的な国のしくみが整えられていく過程で起きたできごとについて述べた次のア～エを、年代の古い順に左から並べて書きなさい。
- ア 板垣退助らは、民撰議院設立建白書を政府に提出した。
- イ 内閣制度がつくられ、初代の内閣総理大臣に伊藤博文が就任した。
- ウ 政府は、国会開設の勅諭を出して、10年後に国会を開設することを約束した。
- エ 天皇が国民に与えるというかたちで、大日本帝国憲法が公布された。

(2) カードIIに関して、次の①、②の問いに答えなさい。

- ① 下線部cに関して、部落解放をめざして1922年に結成された団体は何か。漢字5字で書きなさい。
- ② 下線部dについて、右の表は、衆議院議員選挙における、日本の人口に占める有権者の割合の変化を表している。1920年から1928年の間に有権者の割合が大きく変化したのは、選挙権をもつための資格に設けられていた、ある制限が廃止されたためである。廃止されたのは、どのような制限か。書きなさい。

表 衆議院議員選挙における、日本の人口に占める有権者の割合の変化

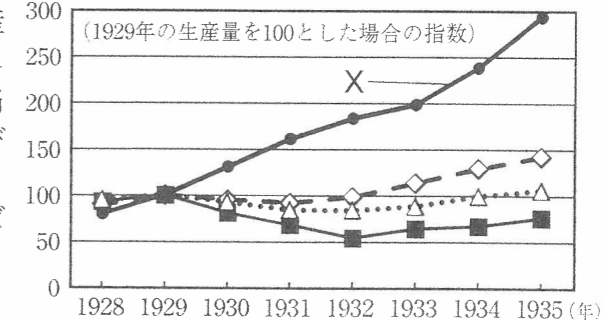
衆議院議員選挙の実施年	1920年	1928年
日本の人口に占める有権者の割合	5.5%	19.8%

(日本長期統計総覧により作成)

(3) カードIIIに関して、次の①、②の問いに答えなさい。

- ① 下線部eに関して、右のグラフは、世界恐慌が起きたころの日本、アメリカ、イギリス、ソ連のいずれかの鉱工業生産指数の推移を表している。グラフで示した時期に、X国が進めた政策として適当なものを、次のア～エの中から一つ選びなさい。
- ア 社会主義のもとで五か年計画と呼ばれる経済政策を進めた。
- イ 実権をにぎった満州国へ移民を送る政策を進めた。
- ウ 積極的に経済を調整するニューディール政策を進めた。
- エ オーストラリアやインドなどの国や地域との間でブロック経済を進めた。

グラフ 日本、アメリカ、イギリス、ソ連の鉱工業生産指数の推移



(明治以降本邦主要経済統計により作成)

資料

未曾有の帝都大不穩事件
狙撃されて重傷の
犬養総理大臣遂に逝去

- ② 下線部fに関して、右の資料は、1932年に起きたあるできごとについて書かれた新聞記事の内容の一部を表している。この資料について述べた次の文を読んで、Yにあてはまる語句を、下のア～エの中から一つ選びなさい。

この新聞記事は、軍の将校などが首相官邸をおそい、当時の内閣総理大臣を暗殺した Y を報じたものである。

- ア 二・二六事件 イ 日比谷焼き打ち事件
ウ 五・一五事件 エ 生麦事件

(4) カードIVの下線部gに関して、この時期における日本の外交について述べた文として最も適当なものを、次のア～エの中から一つ選びなさい。

- ア 世界平和と国際協調を目的とする国際連盟に加盟した。
- イ カンボジアの復興支援を行う国連平和維持活動に参加した。
- ウ 韓国との国交正常化を実現する日韓基本条約を結んだ。
- エ アメリカなど48か国とサンフランシスコ平和条約を結んだ。

5 次のⅠ～Ⅲのカードは、経済活動と政府の役割について、ある班がまとめたものの一部である。(1)～(5)の問いに答えなさい。

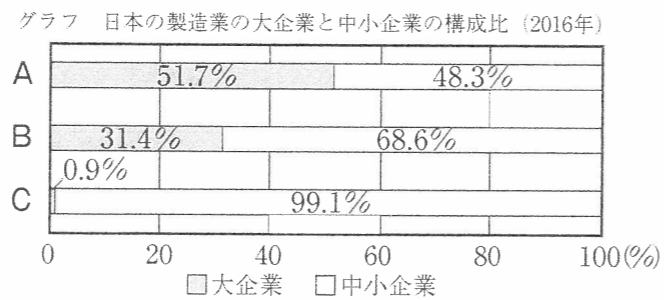
Ⅰ 私たちの消費生活
 私たちは、さまざまな財(モノ)やサービスを**a消費**することで豊かな生活を送ることができます。**b企業**は、これらの財(モノ)やサービスを生産し、提供しています。

Ⅱ 景気の安定
 私たちの生活は、景気の変動に大きな影響を受けます。日本銀行と政府は、国民が安心して経済活動を行うことができるように、**c景気を安定させるための政策**を行っています。

Ⅲ 政府の役割
 政府は、**d税金**などによって収入を得ています。この収入をもとに、経済活動を円滑にするとともに、**e環境保全**に力を入れるなど、政府は、私たちの豊かな生活を支えています。

(1) 下線部 a に関して、経済主体の一つであり、家族や個人など消費生活を営む経済活動の単位を何というか。漢字 2 字で書きなさい。

(2) 下線部 b に関して、次の①、②の問いに答えなさい。



① 右のグラフは、日本の製造業の大企業と中小企業の構成比を表しており、グラフのA～Cには、事業所数、従業者数、製造品出荷額のいずれかがあてはまる。A～Cの組み合わせとして適当なものを、次のア～カの中から一つ選びなさい。

	ア	イ	ウ	エ	オ	カ
A	事業所数	事業所数	従業者数	従業者数	製造品出荷額	製造品出荷額
B	従業者数	製造品出荷額	事業所数	製造品出荷額	事業所数	従業者数
C	製造品出荷額	従業者数	製造品出荷額	事業所数	従業者数	事業所数

② 次の文は、株式会社における株主について説明したものである。Dにあてはまる語句を、下のア～エの中から一つ選びなさい。また、Eにあてはまる語句を漢字 4 字で書きなさい。

株主は、株式を保有している株式会社の利潤の一部を **D** 金として受け取ることができる。また、株式会社の最高意思決定機関である **E** と呼ばれる議決機関に出席し、会社の経営方針や役員を決定することができる。

ア 公債 イ 契約 ウ 配当 エ 資本

(3) 下線部 c に関して、右の表は、好景気と不景気のときに日本銀行や政府が行う政策について表している。表のFとIにあてはまる政策として最も適当なものを、次のア～エの中からそれぞれ一つずつ選びなさい。

表 好景気と不景気のときに日本銀行や政府が行う政策

	金融政策	財政政策
好景気するとき	F	G
不景気するとき	H	I

ア 増税を行い、公共事業への支出を減らす。
 イ 減税を行い、公共事業への支出を増やす。
 ウ 国債などを銀行から買う。
 エ 国債などを銀行へ売る。

(4) 下線部 d に関して、次の文は、消費税について述べたものである。正誤の組み合わせとして適当なものを、下のア～エの中から一つ選びなさい。

J 消費税は、税金を納めなければならない人と実際に税金を負担する人が一致する。
 K 消費税は、所得税に比べて、所得の低い人ほど所得に対する税負担の割合が高くなる傾向がある。

ア J-正 K-正 イ J-正 K-誤 ウ J-誤 K-正 エ J-誤 K-誤

(5) 下線部 e に関して、1993年に国が制定した、公害対策基本法を発展させ、環境保全に対する社会全体の責務を明らかにした法律を何というか。書きなさい。

6 次の文は、「民主主義のあり方」というテーマで、ある班がまとめたレポートの一部である。(1)～(5)の問いに答えなさい。

民主主義の政治が行われるためには、私たち一人一人が自由に意見を述べる権利や、話し合いに参加する機会が平等に認められていることが大切です。つまり、**a自由権**や**平等権**などの基本的人権が保障されていなければなりません。また、民主主義では、**b地方の政治**、**c国の政治**、**d国際機関**における意思決定、さらには私たちが行う**e選挙**など、多数決で物事を決定することが多くあります。多くの人々の権利を尊重し、幸福を実現するため、多数決を公正に行うとともに、さまざまな立場の人たちが十分に話し合い、合意をつくり出せるような工夫が必要です。

(1) 下線部 a に関して、次の条文は、1789年に出された宣言の一部である。この条文を含む宣言として適当なものを、下のア～エの中から一つ選びなさい。

第1条 人は、自由、かつ、権利において平等なものとして生まれ、生存する。社会的差別は、共同の利益に基づくのでなければ、設けられない。

ア アメリカ独立宣言 イ フランス人権宣言 ウ ポツダム宣言 エ マグナ=カルタ

(2) 下線部 b に関して、次の文は、地域の重要な課題について、住民全体の意見をくみ取るため、条例にもとづいて行われた住民参加の例を表している。この住民参加の方法を何というか。漢字 4 字で書きなさい。

- ・原子力発電所の建設について、新潟県巻町(現新潟市)で1996年に全国で初めて行われた。
- ・吉野川可動堰の建設について、徳島県徳島市で2000年に行われた。
- ・市町村合併について、長野県平谷村で2003年に行われた。
- ・米軍基地建設のための埋立てについて、沖縄県で2019年に行われた。

(3) 下線部 c に関して、次の①、②の問いに答えなさい。

① 政党政治において、内閣を組織して政権を担当する政党のことを何というか。漢字 2 字で書きなさい。

② 日本の国会における議決について説明した文として適当なものを、次のア～エの中から一つ選びなさい。

- ア 予算の議決は、参議院が、衆議院と異なった議決をした場合、両院協議会でも意見が一致しないときには、参議院の議決が国会の議決となる。
- イ 法律案の議決は、参議院が、衆議院と異なった議決をした場合、参議院が出席議員の3分の2以上の多数で再可決したときには、参議院の議決が国会の議決となる。
- ウ 内閣総理大臣の指名は、衆議院の議決後、10日以内に参議院が議決しない場合、衆議院の議決が国会の議決となる。
- エ 条約の承認は、衆議院が先に審議しなければならず、衆議院の議決後、30日以内に参議院が議決しない場合、衆議院の議決が国会の議決となる。

(4) 下線部 d に関して、右の表Iは、国際連合の安全保障理事会におけるある重要な決議案の投票結果を表している。投票の結果、この決議案は採択されたか、それとも採択されなかったか。理由を明らかにしながら、「常任理事国」という語句を用いて書きなさい。

表I 安全保障理事会におけるある重要な決議案の投票結果

投票	国名
賛成	コートジボワール、赤道ギニア、エチオピア、フランス、カザフスタン、クウェート、オランダ、ペルー、ポーランド、スウェーデン、イギリス、アメリカ
反対	ボリビア、ロシア
棄権	中国

(国際連合資料により作成)

(5) 下線部 e に関して、右の表IIは、参議院議員選挙の選挙区における議員一人あたりの有権者数を表している。2016年の参議院議員選挙では、鳥取県および島根県と、徳島県および高知県の二つの合同選挙区が設けられた。この合同選挙区が設けられた目的について、表IIを参考にしながら、次の二つの語句を用いて書きなさい。

選挙区	2013年参議院議員選挙	2016年参議院議員選挙	
北海道	(全国最多) 1149739	768896	
埼玉県	980428	(全国最多) 1011503	
福井県	324371	(全国最少) 328722	
鳥取県	(全国最少) 241096	合同選挙区	535029
島根県	293905		
徳島県	325559	合同選挙区	639950
高知県	313961		

* 各選挙において、議員一人あたりの有権者数が全国で最も多い選挙区を(全国最多)、最も少ない選挙区を(全国最少)と示している。(総務省資料により作成)

議員一人あたりの有権者数 一票の価値